

Jugendlizenz B1

Name _____ Vorname _____

Anschrift _____ PLZ, Ort _____

Geb.-Datum _____ Landesverband _____

Prüfer _____

Punkte erreichbar: **60**

Punkte erreicht _____

bestanden ja

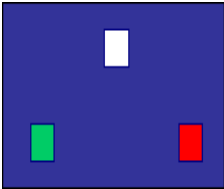
nein

Datum, Unterschrift _____




Jugendlizenz-Fragebogen Nr. 1

Nr.	Frage	Antwort	Pkt
1	Was musst du beachten, bevor du ein unbekanntes Revier befährst?	<input type="checkbox"/> Ich beschaffe mir das notwendige Kartenmaterial und die dort geltenden Vorschriften und Fahrwasserbezeichnungen. <input type="checkbox"/> Es ist darauf zu achten, dass der richtige Propeller auf der Antriebswelle montiert ist. <input type="checkbox"/> Ich lege alle Rettungsmittel und die Erste-Hilfe-Ausrüstung bereit.	•••
2	In deiner Nähe ist ein Unfall passiert. Wie verhältst du dich richtig?	<input type="checkbox"/> Es muss eine Markierungsboje gesetzt werden, damit die DGzRS den Havaristen finden kann. <input type="checkbox"/> Ich fahre ohne Umwege in den nächsten Hafen und informiere den Hafenmeister über den Unfall. <input type="checkbox"/> Ich bin verpflichtet, unverzüglich Hilfe zu leisten, soweit meine Sicherheit nicht gefährdet wird.	•••
3	Wer ist auf einem Boot für die Befolgung der schiffahrtspolizeilichen Vorschriften verantwortlich?	<input type="checkbox"/> Der Schiffsführer <input type="checkbox"/> Der Bootseigner <input type="checkbox"/> Mein Landesjugendwart	•
4	Wie verhältst du dich nach einem Zusammenstoß?	<input type="checkbox"/> Erste Hilfe leisten <input type="checkbox"/> Das Boot aus dem Fahrwasser bringen und erforderliche Daten über das Boot und die Personen notieren. <input type="checkbox"/> Wenn nötig, die Wasserschutzpolizei informieren.	•••



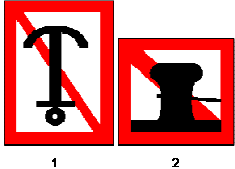
Jugendlizenz-Fragebogen Nr. 1

Nr.	Frage	Antwort	Pkt
5	Woraus bestehen die Kennzeichen für ein Boot und wo sind sie angebracht?	<input type="checkbox"/> Kombinationen von Buchstaben und Zahlen beidseitig am Bug oder Heck <input type="checkbox"/> Schiffsname am Bug und Heck <input type="checkbox"/> Eine frei wählbare Nummer gut sichtbar im inneren des Bootes	••
6	Auf was musst du achten, wenn du in einen Hafen fährst?	<input type="checkbox"/> Sog- und Wellenschlag vermeiden. <input type="checkbox"/> Geschwindigkeitsbeschränkungen beachten. <input type="checkbox"/> Eventuell erforderliche Genehmigung einholen	•••
7	Du siehst unten stehende Lichter. Welches Fahrzeug erkennst du? <div style="text-align: center;">  </div>	<input type="checkbox"/> Fahrzeug mit Maschinenantrieb in Fahrt von hinten. <input type="checkbox"/> Fahrzeug mit Maschinenantrieb in Fahrt von vorn. <input type="checkbox"/> Gefährliche Baustelle.	••
8	Mit welcher Beleuchtung musst du mindestens fahren, wenn du ohne Motor nachts unterwegs bist?	<input type="checkbox"/> Eine Dreifarben-Laterne <input type="checkbox"/> Ein weißes Rundumlicht <input type="checkbox"/> Ohne Motor ist eine Beleuchtung nicht erforderlich.	••
9	Welche Zeichen begrenzen die Fahrinne zum rechten Ufer (rechtes Ufer bei Blickrichtung in Fließrichtung)?	<input type="checkbox"/> Rote Stumpftonnen oder Schwimmstangen, evtl. mit rotem Zylinder als Toppzeichen. <input type="checkbox"/> Grüne Spitztonnen oder Schwimmstangen, evtl. mit grünem Kegel, Spitze nach oben, als Toppzeichen. <input type="checkbox"/> Kugeltonnen in gestreifter Kennung mit roter und grüner Zeichnung.	••

Jugendlizenz-Fragebogen Nr. 1

Nr.	Frage	Antwort	Pkt
10	Warum darfst du nicht zu dicht an die ausgelegten Tonnen heranfahren?	<input type="checkbox"/> Weil die Tonnen durch Wasserstandsschwankungen ihre Lage verändern können. <input type="checkbox"/> Weil die Tonnen durch Wind- und Strömungseinwirkung ihre Lage verändern können. <input type="checkbox"/> Weil die Tonnen durch den Wellenschlag kentern können.	••
11	Du siehst am Ufer das unten stehende Zeichen. Welche Bedeutung hat es? 	<input type="checkbox"/> Hinweis auf eine freifahrende Fähre. <input type="checkbox"/> Hinweis auf eine nicht freifahrende Fähre <input type="checkbox"/> Hinweis auf eine schwimmende Anlage	••
12	Du siehst am Ufer das unten stehende Zeichen. Welche Bedeutung hat es? 	<p>Zeichen 1:</p> <input type="checkbox"/> Einfahrt für alle Fahrzeuge verboten <input type="checkbox"/> Keine Wendemöglichkeit für Fahrzeuge <input type="checkbox"/> Gesperrte Wasserfläche, jedoch für Kleinfahrzeuge ohne Motorantrieb befahrbar. <p>Zeichen 2:</p> <input type="checkbox"/> Sog- und Wellenschläge vermeiden, schutzbedürftige Anlage <input type="checkbox"/> Gesperrt für alle Fahrzeuge <input type="checkbox"/> Gegenverkehr hat Vorrang und darf nicht behindert werden.	••
13	Du siehst vor einer Schleuse die untenstehende Tafel. Welche Bedeutung hat sie? 	<input type="checkbox"/> Gegenverkehr hat Vorrang und darf nicht behindert werden. <input type="checkbox"/> Vor dieser Tafel anhalten, bis Weiterfahrt freigegeben wird. <input type="checkbox"/> Schleuse außer Betrieb. <input type="checkbox"/> Es ist ein langer Ton zu geben.	••

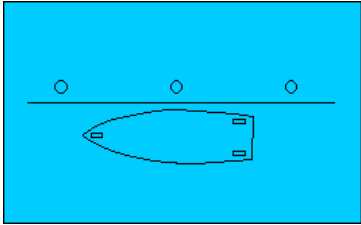
Jugendlizenz-Fragebogen Nr. 1

Nr.	Frage	Antwort	Pkt
14	<p>Du siehst am Ufer die untenstehende Tafel. Welche Bedeutung hat sie?</p> 	<input type="checkbox"/> Fähre kreuzt das Fahrwasser, Überholverbot für alle Fahrzeuge. <input type="checkbox"/> Einfahrt nur für Fahrzeuge ohne Motorantrieb. <input type="checkbox"/> Ende eines Ge- oder Verbotes bzw. einer Einschränkung in einer Fahrtrichtung.	•
15	<p>Mögliche Liegeplätze können mit den folgenden Tafeln gekennzeichnet sein. Was bedeutet das für dich?</p> 	<input type="checkbox"/> Dies ist eine Klassifikation der Liegestellen. Bei drei blauen Dreiecken ist der meiste Komfort. <input type="checkbox"/> Schiffe, die hier liegen, haben gefährliche Güter geladen. Ich bleibe weg <input type="checkbox"/> Nur bei einem blauen Dreieck dürfen Kleinfahrzeuge liegen bleiben.	•••
16	<p>Wie lang ist ein kurzer Ton?</p>	<input type="checkbox"/> Etwa 1 Sekunde <input type="checkbox"/> Etwa 2 Sekunden <input type="checkbox"/> Etwa 3 Sekunden	•
17	<p>Was bedeuten 5 kurze Töne?</p>	<input type="checkbox"/> Ein Ausweichpflichtiger wird auf seine Ausweichpflicht hingewiesen. <input type="checkbox"/> Überholen nicht möglich. <input type="checkbox"/> Fahrzeug fährt rückwärts.	••
18	<p>Du siehst die untenstehenden Tafeln. Welche Bedeutung haben sie?</p> 	<p>Zeichen 1:</p> <input type="checkbox"/> Ankern verboten jeweils auf der Fahrwasserseite auf der die Tafel steht. <input type="checkbox"/> Ankern für Sportboote verboten. <input type="checkbox"/> Das mitführen von Ankern jeglicher Art ist verboten. <p>Zeichen 2:</p> <input type="checkbox"/> Festmachen verboten jeweils auf der Fahrwasserseite auf der die Tafel steht. <input type="checkbox"/> Festmachen für Sportboote verboten <input type="checkbox"/> Erlaubnis zum Festmachen muss angefordert werden.	•••

Jugendlizenz-Fragebogen Nr. 1

Nr.	Frage	Antwort	Pkt
19	Was ist Sog?	<input type="checkbox"/> Die Eigenschaft von in Fahrt befindlichen Schiffen, andere Schiffe zu sich zu ziehen <input type="checkbox"/> Das starke Ziehen an einem Seil	•
20	Zwei Motorboote kommen sich entgegen. Wie weichen sie aus?	<input type="checkbox"/> Geschwindigkeit verringern und Handzeichen geben, in welche Richtung ich ausweiche. <input type="checkbox"/> Jeder muss nach Backbord ausweichen. <input type="checkbox"/> Jeder muss nach Steuerbord ausweichen.	••
21	Während deiner Fahrt tritt unsichtiges Wetter ein. Welche Maßnahmen musst du einleiten?	<input type="checkbox"/> Fahrt sofort einstellen, Fahrwasser freimachen. <input type="checkbox"/> Lichter einschalten. <input type="checkbox"/> Möglichst nächsten Hafen aufsuchen.	••
22	Was musst du bei einer Talschleusung beachten?	<input type="checkbox"/> Auf die Markierungen in der Schleuse ist zu achten. <input type="checkbox"/> Das Boot darf nur an der Heckklampe belegt werden. <input type="checkbox"/> Auf sicheres Fieren der Leinen ist zu achten.	•

Jugendlizenz-Fragebogen Nr. 1

Nr.	Frage	Antwort	Pkt
23	<p>Wie belegt man an</p> <p>1. einer Klampe?</p> <p>2. einem Pfahl?</p> <p>3. einem Ring?</p>	<p>zu 1 (Klampe):</p> <p><input type="checkbox"/> mit Kreuzschlägen und Kopfschlag</p> <p><input type="checkbox"/> mit Webeleinstek oder Palstek</p> <p><input type="checkbox"/> mit Rohringstek oder mit Rundtörn und zwei halben Schlägen.</p> <p>zu 2 (Pfahl):</p> <p><input type="checkbox"/> mit Kreuzschlägen und Kopfschlag</p> <p><input type="checkbox"/> mit Webeleinstek oder Palstek</p> <p><input type="checkbox"/> mit Rohringstek oder mit Rundtörn und zwei halben Schlägen.</p> <p>zu 3 (Ring):</p> <p><input type="checkbox"/> mit Kreuzschlägen und Kopfschlag</p> <p><input type="checkbox"/> mit Webeleinstek oder Palstek</p> <p><input type="checkbox"/> mit Rohringstek oder mit Rundtörn und zwei halben Schlägen.</p>	●●●
24	<p>Zeichne die Leinen ein, mit denen dieses Sportboot korrekt an der Pier festgemacht wird. Benenne diese vom Bug zum Heck.</p>		●●
25	<p>Was ist zu tun, wenn jemand über Bord gefallen ist?</p>	<p><input type="checkbox"/> Gegen Strom und Wind die Person anfahren, Propeller auskuppeln, Person bei stillliegendem Boot bergen.</p> <p><input type="checkbox"/> Auskuppeln, Heck abdrehen, „Mann über Bord“ rufen, Rettungsring werfen,</p> <p><input type="checkbox"/> Boot aus dem Gefahrenbereich bringen und auf Hilfe warten oder die Küstenwache informieren.</p>	●●

Jugendlizenz-Fragebogen Nr. 1

Nr.	Frage	Antwort	Pkt
26	Wie heißen die Regeln, in denen du für dein Verhalten zum Schutz seltener Tiere und Pflanzen sowie zur Reinhaltung der Gewässer Hinweise findest?	<input type="checkbox"/> Umweltschutzregeln <input type="checkbox"/> Befahrensregeln für Naturschutzgebiete und Nationalparks <input type="checkbox"/> Die 10 goldenen Regeln	••
27	Warum solltest du in deinem Boot unbedingt Paddel mitführen?	<input type="checkbox"/> Damit im Notfall das Boot aus dem Fahrwasser gepaddelt werden kann. <input type="checkbox"/> Damit ich bei Langsamfahrt den Motor abstellen kann (Umweltschutz). <input type="checkbox"/> Damit ich mich vom Ufer abstoßen kann.	•
28	Wozu dient der Fender?	<input type="checkbox"/> Er dient als Rettungshilfe bei "Mann über Bord"- Manövern. <input type="checkbox"/> Er wird als Signalzeichen bei Ankerliegen gesetzt. <input type="checkbox"/> Er dient zum Schutz des Bootskörpers	••
29	Wie stellst du fest, dass dein Anker hält?	<input type="checkbox"/> Wenn die Ankerleine straff ist. <input type="checkbox"/> Durch peilen von Landmarken. <input type="checkbox"/> Durch anfassen der Ankerkette oder Leine, wenn diese vibriert oder ruckt, hat der Anker nicht gefasst.	•
30	Weshalb ist die Drehrichtung deines Propellers für das Manövrieren unter Motor von Bedeutung?	<input type="checkbox"/> Da der "Radeffekt" das Heck zur einen oder anderen Seite versetzt, kann er beim Manövrieren berücksichtigt werden. <input type="checkbox"/> Bei rechtsdrehendem Propeller wird beim vorwärts fahren das Heck nach Backbord versetzt. <input type="checkbox"/> Bei linksdrehendem Propeller wird beim vorwärts fahren das Heck nach Backbord versetzt.	••

Gesamtpunkte:	60	erreichte Punkte:	
----------------------	-----------	--------------------------	--

bestanden: 52 bis 60 Punkte	<input type="checkbox"/>
mdl. Prüfung: 44 bis 51 Punkte	<input type="checkbox"/>
nicht bestanden: 0 bis 43 Punkte	<input type="checkbox"/>