

## Jugendlizenz B1

Name \_\_\_\_\_ Vorname \_\_\_\_\_

Anschrift \_\_\_\_\_ PLZ, Ort \_\_\_\_\_

Geb.-Datum \_\_\_\_\_ Landesverband \_\_\_\_\_

Prüfer \_\_\_\_\_

Punkte erreichbar: **60**

Punkte erreicht \_\_\_\_\_

bestanden  ja

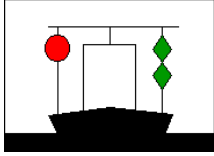
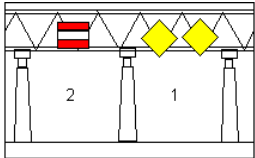
nein

Datum, Unterschrift \_\_\_\_\_





### Jugendlizenz-Fragebogen Nr. 2

Nr.	Frage	Antwort	Pkt
1	Wer überwacht die Einhaltung der Vorschriften auf dem Wasser?	<input type="checkbox"/> Die Wasserschutzpolizei <input type="checkbox"/> Die Wasser- und Schifffahrtsverwaltung <input type="checkbox"/> Die DGzRS	●●●
2	Wie lauten die Grundregeln für das Verhalten auf dem Wasser?	<input type="checkbox"/> Das Fahrwasser immer mit max. Geschwindigkeit befahren. <input type="checkbox"/> Alle haben Maßnahmen zur sicheren Führung des Fahrzeugs zu treffen. <input type="checkbox"/> Es darf keiner geschädigt, gefährdet oder mehr als unvermeidbar behindert oder belästigt werden	●●●
3	Wie hast du dich zu verhalten, wenn du durch Übermüdung, Einwirkung von Alkohol, Medikamente oder Drogen beeinträchtigt bist?	<input type="checkbox"/> Ich bestimme einen anderen Fahrzeugführer, der <b>meine</b> Anweisungen zu befolgen hat. <input type="checkbox"/> Ich darf das Boot nicht führen. <input type="checkbox"/> Ich stelle meine Fahrtüchtigkeit mit geeigneten Gegenmitteln wieder her.	●●
4	Wann darfst du von den Grundregeln für das Verhalten auf dem Wasser abweichen?	<input type="checkbox"/> Wenn ich dadurch einen Unfall vermeiden kann. <input type="checkbox"/> Am Wochenende <input type="checkbox"/> Werktags	●●
5	Welche Papiere musst du während des Führens deines Bootes stets mitführen, wenn du zwischen 12 und 16 Jahren alt bist?	<input type="checkbox"/> die Lizenz B1 des DMYV <input type="checkbox"/> den Ausweis über die Kennzeichnung des Bootes <input type="checkbox"/> die entsprechende Revierkarte	●●

## Jugendlizenz-Fragebogen Nr. 2

Nr.	Frage	Antwort	Pkt
6	<p>Du siehst im Fahrwasser voraus unten stehende Zeichen. Was bedeuten diese Zeichen und wie verhältst du dich?</p> 	<input type="checkbox"/> schwimmendes Gerät bei der Arbeit, Vorbeifahrt nur an der grünen Seite gestattet. <input type="checkbox"/> Schiff von vorne über 100 m, Vorbeifahrt mit großem Abstand an der grünen Seite <input type="checkbox"/> auf Grund gelaufenes Schiff, Abstand halten.	••
7	<p>Welches sind die wesentlichen Lichter, die motorisierte Schiffe bei Nacht während der Fahrt führen müssen.</p>	<input type="checkbox"/> Grüne Steuerbordlaterne, rote Backbordlaterne und weiße Laterne oder Laternen so, dass man aus jedem Blickwinkel ein weißes Licht sieht <input type="checkbox"/> ein weißes Rundumlicht <input type="checkbox"/> Scheinwerfer nach vorne und rote Rücklichter	•••
8	<p>Du siehst auf einem Fahrzeug ein blaues Funkellicht. Um welche Fahrzeuge handelt es sich?</p>	<input type="checkbox"/> Fahrzeuge der Überwachungsbehörden <input type="checkbox"/> Saugbagger in Fahrt <input type="checkbox"/> Feuerlöschboote oder Wasserrettung im Einsatz	••
9	<p>Welche Zeichen begrenzen die Fahrrinne zum linken Ufer (linkes Ufer in Fließrichtung betrachtet)?</p>	<input type="checkbox"/> gelbe Spitztonnen oder Schwimmstangen evtl. mit gelbem Kegel, Spitze nach oben als Topzeichen <input type="checkbox"/> grüne Spitztonnen oder Schwimmstangen evtl. mit grünem Kegel, Spitze nach oben als Topzeichen <input type="checkbox"/> rote Spitztonnen oder Schwimmstangen evtl. mit rotem Kegel	••
10	<p>Du kommst am Tage an die untenstehende gekennzeichnete Brücke. Was bedeuten diese Tafeln und wo fährst du durch?</p> 	<input type="checkbox"/> bei 1) Achtung, Gegenverkehr bei 2) Durchfahrt erlaubt <input type="checkbox"/> bei 1) Durchfahrt erlaubt nur für Großschifffahrt bei 2) Durchfahrt für Sportboote <input type="checkbox"/> bei 1) Durchfahrt ohne Gegenverkehr bei 2) Verbot der Durchfahrt	••

## Jugendlizenz-Fragebogen Nr. 2

Nr.	Frage	Antwort	Pkt
11	<p>Du siehst unten stehendes Zeichen. Welche Bedeutung hat es?</p> 	<input type="checkbox"/> Ende der Wassermotorradstrecke <input type="checkbox"/> Sog und Wellenschlag vermeiden <input type="checkbox"/> Vorsicht! Starker Wellenschlag.	••
12	<p>Du siehst am Tage ein Fahrzeug, auf dem eine rote Flagge geschwenkt wird. Was bedeutet das?</p>	<input type="checkbox"/> Fahrzeug in Not, welches Hilfe benötigt, ich leiste Hilfe, soweit meine Sicherheit nicht beeinträchtigt wird <input type="checkbox"/> Das Fahrzeug verliert Kraftstoff, ich bringe mich aus dem Gefahrenbereich <input type="checkbox"/> Achtung! Besondere Vorsicht walten lassen, Vorbeifahrt verboten	••
13	<p>Du siehst unten stehende Tafel. Welche Bedeutung hat sie?</p> 	<input type="checkbox"/> Hinweis auf einen Yachthafen <input type="checkbox"/> Vorsicht, kreuzende Fahrzeuge von links <input type="checkbox"/> vorgeschriebene Fahrtrichtung	••
14	<p>Du siehst unten stehende Tafel. Welche Bedeutung hat sie?</p> 	<input type="checkbox"/> Das Mitführen von metallischen Ankern ist verboten (Radarreflektion) <input type="checkbox"/> Ankerverbot auf der Uferseite, auf der das Schild steht. 50 m links und 50 m rechts der Tafel. <input type="checkbox"/> Ankerverbot auf der Uferseite, die der Tafel gegenüberliegt. 50 m links und 50 m rechts der Tafel.	••
15	<p>Mögliche Liegeplätze können mit den folgenden Tafeln gekennzeichnet sein. Was bedeutet das für dich?</p> 	<input type="checkbox"/> Bezeichnung der Wassertiefe. <input type="checkbox"/> Schiffe, die hier liegen, haben gefährliche Güter geladen. Ich bleibe weg <input type="checkbox"/> Nur bei einem blauen Dreieck dürfen Kleinfahrzeuge liegen bleiben.	•

## Jugendlizenz-Fragebogen Nr. 2

Nr.	Frage	Antwort	Pkt
16	Zwei Motorboote nähern sich auf kreuzenden Kursen und es besteht die Gefahr eines Zusammenstoßes. Welches Boot muss ausweichen?	<input type="checkbox"/> Beide müssen nach Backbord ausweichen <input type="checkbox"/> Beide müssen nach Steuerbord ausweichen <input type="checkbox"/> Derjenige, der den anderen auf der Steuerbordseite hat, muss ausweichen	●●●
17	Was ist Sog?	<input type="checkbox"/> Die Eigenschaft von in Fahrt befindlichen Schiffen, andere Schiffe zu sich zu ziehen <input type="checkbox"/> Das starke Ziehen an einem Seil	●
18	Wann ist Wellenschlag zu vermeiden?	<input type="checkbox"/> Wenn die Wasserschutzploizei in der Nähe ist. <input type="checkbox"/> Wenn man Andere oder auch Bauwerke damit gefährden könnte <input type="checkbox"/> Wenn die Familie Kaffee trinkt	●●
19	Worauf hast du in einer Schleuse zu achten?	<input type="checkbox"/> Ich muss mein Boot so befestigen, dass es jederzeit unter Kontrolle bleibt und gleichzeitig dem steigenden oder sinkenden Wasserstand folgen kann. <input type="checkbox"/> Möglichst schnell ausfahren <input type="checkbox"/> Ich sollte die Zeit in der Schleuse für notwendige Aufräumarbeiten in meinem Boot nutzen	●●●
20	Wie schnell darfst du fahren?	<input type="checkbox"/> Ich fahre so schnell wie es mein Motor erlaubt, um immer den Anderen aus dem Weg gehen zu können. <input type="checkbox"/> Ich muss Geschwindigkeitsbeschränkungen beachten, die es z.B. fast auf allen Kanälen und vielen Flüssen gibt. <input type="checkbox"/> Ich darf nur mit der Geschwindigkeit fahren, bei der ich das Boot noch sicher beherrsche und nicht gegen Gesetze verstoße	●●

## Jugendlizenz-Fragebogen Nr. 2

Nr.	Frage	Antwort	Pkt
21	Was tust du, wenn Benzin ins Boot gelangt ist?	<input type="checkbox"/> mit einem Schöpfeimer aufnehmen und über Bord kippen <input type="checkbox"/> Feuer und offenes Licht löschen und mit Schwamm oder Tüchern aufnehmen. <input type="checkbox"/> Boot reinigen und Umweltschutz beachten.	••
22	Warum dürfen in einer Schleuse die Leinen nicht fest belegt werden?	<input type="checkbox"/> weil das Ab- und Anlegen zu lange dauert <input type="checkbox"/> damit ich während des Schleusenvorgangs einem größeren Schiff Platz machen kann. <input type="checkbox"/> damit die Leinen gefiert bzw. durchgeholt werden können und im Notfall das Boot sofort gelöst werden kann.	••
23	Welche Anforderungen müssen Rettungswesten erfüllen?	<input type="checkbox"/> Sie müssen ohnmachtssicher sein, d.h. der Kopf einer bewusstlosen Person muss stets in Rückenlage über Wasser gehalten werden <input type="checkbox"/> Sie muss mich vor Wind und Wetter schützen <input type="checkbox"/> Sie muss eine Kennzeichnung haben, damit der Bootsführer die ihm zugeteilte Weste wiedererkennt.	•
24	Wozu dient der Schotstek?	<input type="checkbox"/> er bildet ein festes Auge <input type="checkbox"/> er verbindet zwei gleichstarke Tampen <input type="checkbox"/> er verbindet zwei ungleichstarke Tampen	••
25	Wieviel Ankerleine musst du zum sicheren Liegen ausbringen?	<input type="checkbox"/> Soviel, dass der Anker den Boden erreicht <input type="checkbox"/> Wesentlich mehr, als das Wasser tief ist – mehr als das 5-fache der Wassertiefe <input type="checkbox"/> Soviel ich habe, wenn der Anker nicht den Boden erreicht habe ich einen Treibanker	•

## Jugendlizenz-Fragebogen Nr. 2

Nr.	Frage	Antwort	Pkt
26	Womit musst du rechnen, wenn plötzlich starker Wind aufkommt?	<input type="checkbox"/> Dass ich bei Gegenwind schneller fahre <input type="checkbox"/> Dass eine starke Wetterverschlechterung kommt <input type="checkbox"/> Dass der Benzinverbrauch ansteigt	●●●
27	Weshalb musst du den Tank des Bootes immer an Land befüllen?	<input type="checkbox"/> Damit das verschüttete Benzin vom Erdreich aufgenommen werden kann. (Gewässerschutz) <input type="checkbox"/> Damit ich die benötigte Spritmenge ermitteln kann. <input type="checkbox"/> Um zu verhindern, dass Treibstoff ins Wasser gelangt.	●●
28	Wie verhält sich dein Boot, wenn du mit einem rechtsdrehenden Propeller rückwärts fährst?	<input type="checkbox"/> er versetzt das Heck nach Steuerbord <input type="checkbox"/> er versetzt das Heck nach Backbord <input type="checkbox"/> das Boot lässt sich besser manövrieren	●
29	Wozu dient der Kopfschlag?	<input type="checkbox"/> zum Sichern der Leine beim Belegen einer Klampe <input type="checkbox"/> damit wird das Ausrauschen eines Endes aus einer Öse verhindert <input type="checkbox"/> damit sich der Tampen nicht aufreißt	●●
30	Welches ist die günstigste Anlegeseite eines Bootes mit rechtsdrehendem Propeller? Begründung?	<input type="checkbox"/> Backbord, weil das Heck beim Aufstoppen durch den Rückwärtsgang an die Pier gezogen wird. <input type="checkbox"/> Steuerbord, weil das Heck beim Aufstoppen durch den Rückwärtsgang von der Pier weg gezogen wird. <input type="checkbox"/> egal, weil die Drehrichtung des Propellers bei Rückwärtsfahrt keine Auswirkung hat.	●

<b>Gesamtpunkte:</b>	<b>60</b>	<b>erreichte Punkte:</b>	
----------------------	-----------	--------------------------	--

bestanden: 52 bis 60 Punkte	<input type="checkbox"/>
mdl. Prüfung: 44 bis 51 Punkte	<input type="checkbox"/>

nicht bestanden: 0 bis 43 Punkte

