

## Jugendlizenz B1

Name \_\_\_\_\_ Vorname \_\_\_\_\_

Anschrift \_\_\_\_\_ PLZ, Ort \_\_\_\_\_

Geb.-Datum \_\_\_\_\_ Landesverband \_\_\_\_\_

Prüfer \_\_\_\_\_

Punkte erreichbar: **60**

Punkte erreicht \_\_\_\_\_

bestanden  ja

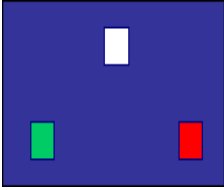
nein

Datum, Unterschrift \_\_\_\_\_




### Jugendlizenz-Fragebogen Nr. 1

Nr.	Frage	Antwort	Pkt
1	Was musst du beachten, bevor du ein unbekanntes Revier befährst?	<input checked="" type="checkbox"/> Ich beschaffe mir das notwendige Kartenmaterial und die dort geltenden Vorschriften und Fahrwasserbezeichnungen. <input type="checkbox"/> Es ist darauf zu achten, dass der richtige Propeller auf der Antriebswelle montiert ist. <input type="checkbox"/> Ich lege alle Rettungsmittel und die Erste-Hilfe-Ausrüstung bereit.	•••
2	In deiner Nähe ist ein Unfall passiert. Wie verhältst du dich richtig?	<input type="checkbox"/> Ich setze eine Markierungsboje, damit die DGzRS den Havaristen finden kann und fahre weiter. <input type="checkbox"/> Ich fahre ohne Umwege in den nächsten Hafen und informiere den Hafenmeister über den Unfall. <input checked="" type="checkbox"/> Ich bin verpflichtet, unverzüglich Hilfe zu leisten, soweit meine Sicherheit nicht gefährdet wird.	•••
3	Wer ist auf einem Boot für die Befolgung der schiffahrtspolizeilichen Vorschriften verantwortlich?	<input checked="" type="checkbox"/> Der Schiffsführer <input type="checkbox"/> Der Bootseigner <input type="checkbox"/> Mein Landesjugendwart	•
4	Wie verhältst du dich nach einem Zusammenstoß?	<input checked="" type="checkbox"/> Erste Hilfe leisten <input checked="" type="checkbox"/> Das Boot aus dem Fahrwasser bringen und erforderliche Daten über das Boot und die Personen notieren. <input checked="" type="checkbox"/> Wenn nötig, die Wasserschutzpolizei informieren.	•••



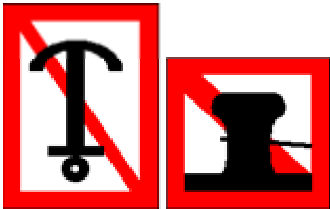
## Jugendlizenz-Fragebogen Nr. 1

Nr.	Frage	Antwort	Pkt
5	Woraus bestehen die Kennzeichen für ein Boot und wo sind sie angebracht?	<input checked="" type="checkbox"/> Kombinationen von Buchstaben und Zahlen beidseitig am Bug oder Heck <input type="checkbox"/> Schiffsname am Bug und Heck <input type="checkbox"/> Eine frei wählbare Nummer gut sichtbar im Inneren des Bootes	••
6	Auf was musst du achten, wenn du in einen Hafen fährst?	<input checked="" type="checkbox"/> Sog- und Wellenschlag vermeiden. <input checked="" type="checkbox"/> Geschwindigkeitsbeschränkungen beachten. <input checked="" type="checkbox"/> Eventuell erforderliche Genehmigung einholen	•••
7	Du siehst unten stehende Lichter. Welches Fahrzeug erkennst du?  	<input type="checkbox"/> Fahrzeug mit Maschinenantrieb in Fahrt von hinten. <input checked="" type="checkbox"/> Fahrzeug mit Maschinenantrieb in Fahrt von vorn. <input type="checkbox"/> Gefährliche Baustelle.	••
8	Mit welcher Beleuchtung musst du mindestens fahren, wenn du ohne Motor nachts unterwegs bist?	<input type="checkbox"/> Eine Dreifarben-Laterne <input checked="" type="checkbox"/> Ein weißes Rundumlicht <input type="checkbox"/> Ohne Motor ist eine Beleuchtung nicht erforderlich.	••
9	Welche Zeichen begrenzen die Fahrrinne zum rechten Ufer (rechtes Ufer bei Blickrichtung in Fließrichtung)?	<input checked="" type="checkbox"/> Rote Stumpftonnen oder Schwimmstangen, evtl. mit rotem Zylinder als Toppzeichen. <input type="checkbox"/> Grüne Spitztonnen oder Schwimmstangen, evtl. mit grünem Kegel, Spitze nach oben, als Toppzeichen. <input type="checkbox"/> Kugeltonnen in gestreifter Kennung mit roter und grüner Zeichnung.	••

## Jugendlizenz-Fragebogen Nr. 1

Nr.	Frage	Antwort	Pkt
10	Warum darfst du nicht zu dicht an die ausgelegten Tonnen heranfahren?	<input checked="" type="checkbox"/> Weil die Tonnen durch Wasserstandsschwankungen ihre Lage verändern können. <input checked="" type="checkbox"/> Weil die Tonnen durch Wind- und Strömungseinwirkung ihre Lage verändern können. <input type="checkbox"/> Weil die Tonnen durch den Wellenschlag kentern können.	••
11	Du siehst am Ufer das unten stehende Zeichen. Welche Bedeutung hat es?  	<input type="checkbox"/> Hinweis auf eine freifahrende Fähre. <input checked="" type="checkbox"/> Hinweis auf eine nicht freifahrende Fähre <input type="checkbox"/> Hinweis auf eine schwimmende Anlage	••
12	Du siehst am Ufer das unten stehende Zeichen. Welche Bedeutung hat es?  	<b>Zeichen 1:</b> <input type="checkbox"/> Einfahrt für alle Fahrzeuge verboten <input type="checkbox"/> Keine Wendemöglichkeit für Fahrzeuge <input checked="" type="checkbox"/> Gesperrte Wasserfläche, jedoch für Kleinfahrzeuge ohne Motorantrieb befahrbar.  <b>Zeichen 2:</b> <input type="checkbox"/> Sog- und Wellenschläge vermeiden, schutzbedürftige Anlage <input checked="" type="checkbox"/> Gesperrt für alle Fahrzeuge <input type="checkbox"/> Gegenverkehr hat Vorrang und darf nicht behindert werden.	••
13	Du siehst vor einer Schleuse die untenstehende Tafel. Welche Bedeutung hat sie?  	<input type="checkbox"/> Gegenverkehr hat Vorrang und darf nicht behindert werden. <input checked="" type="checkbox"/> Vor dieser Tafel anhalten, bis Weiterfahrt freigegeben wird. <input type="checkbox"/> Schleuse außer Betrieb. <input type="checkbox"/> Es ist ein langer Ton zu geben.	••

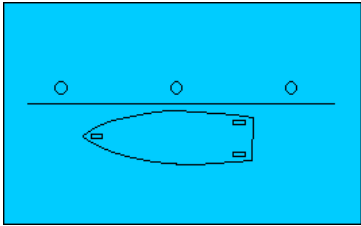
## Jugendlizenz-Fragebogen Nr. 1

Nr.	Frage	Antwort	Pkt
14	<p>Du siehst am Ufer die untenstehende Tafel. Welche Bedeutung hat sie?</p> 	<p><input type="checkbox"/> Fähre kreuzt das Fahrwasser, Überholverbot für alle Fahrzeuge.</p> <p><input type="checkbox"/> Einfahrt nur für Fahrzeuge ohne Motorantrieb.</p> <p><input checked="" type="checkbox"/> Ende eines Ge- oder Verbotes bzw. einer Einschränkung in einer Fahrtrichtung.</p>	•
15	<p>Mögliche Liegeplätze können mit den folgenden Tafeln gekennzeichnet sein. Was bedeutet das für dich?</p> 	<p><input type="checkbox"/> Dies ist eine Klassifikation der Liegestellen. Bei drei blauen Dreiecken ist der meiste Komfort.</p> <p><input checked="" type="checkbox"/> Schiffe, die hier liegen, haben gefährliche Güter geladen. Ich bleibe weg</p> <p><input type="checkbox"/> Nur bei einem blauen Dreieck dürfen Kleinfahrzeuge liegen bleiben.</p>	•••
16	<p>Wie lang ist ein kurzer Ton?</p>	<p><input checked="" type="checkbox"/> Etwa 1 Sekunde</p> <p><input type="checkbox"/> Etwa 2 Sekunden</p> <p><input type="checkbox"/> Etwa 3 Sekunden</p>	•
17	<p>Was bedeuten 5 kurze Töne?</p>	<p><input checked="" type="checkbox"/> Ein Ausweichpflichtiger wird auf seine Ausweichpflicht hingewiesen.</p> <p><input type="checkbox"/> Überholen nicht möglich.</p> <p><input type="checkbox"/> Fahrzeug fährt rückwärts.</p>	••
18	<p>Du siehst die untenstehenden Tafeln. Welche Bedeutung haben sie?</p>  <p style="text-align: center;">1                      2</p>	<p><b>Zeichen 1:</b></p> <p><input checked="" type="checkbox"/> Ankern verboten jeweils auf der Fahrwasserseite auf der die Tafel steht.</p> <p><input type="checkbox"/> Ankern für Sportboote verboten.</p> <p><input type="checkbox"/> Das mitführen von Ankern jeglicher Art ist verboten.</p> <p><b>Zeichen 2:</b></p> <p><input checked="" type="checkbox"/> Festmachen verboten jeweils auf der Fahrwasserseite auf der die Tafel steht.</p> <p><input type="checkbox"/> Festmachen für Sportboote verboten</p> <p><input type="checkbox"/> Erlaubnis zum Festmachen muss angefordert werden.</p>	•••

## Jugendlizenz-Fragebogen Nr. 1

Nr.	Frage	Antwort	Pkt
19	<b>Was ist Sog?</b>	<input checked="" type="checkbox"/> Die Eigenschaft von in Fahrt befindlichen Schiffen, andere Schiffe zu sich zu ziehen <input type="checkbox"/> Das starke Ziehen an einem Seil	•
20	Zwei Motorboote kommen sich entgegen. Wie weichen sie aus?	<input type="checkbox"/> Geschwindigkeit verringern und Handzeichen geben, in welche Richtung ich ausweiche. <input type="checkbox"/> Jeder muss nach Backbord ausweichen. <input checked="" type="checkbox"/> Jeder muss nach Steuerbord ausweichen.	••
21	Während deiner Fahrt tritt unsichtiges Wetter ein. Welche Maßnahmen musst du einleiten?	<input checked="" type="checkbox"/> Fahrt sofort einstellen, Fahrwasser freimachen. <input checked="" type="checkbox"/> Möglichst nächsten Hafen aufsuchen.	••
22	Was musst du bei einer Talschleusung beachten?	<input checked="" type="checkbox"/> Auf die Markierungen in der Schleuse ist zu achten. <input type="checkbox"/> Das Boot darf nur an der Heckklampe belegt werden. <input checked="" type="checkbox"/> Auf sicheres Fieren der Leinen ist zu achten.	•
23	Wie belegt man an 1. einer Klampe? 2. einem Pfahl? 3. einem Ring?	zu 1 (Klampe): <input checked="" type="checkbox"/> mit Kreuzschlägen und Kopfschlag <input type="checkbox"/> mit Webeleinstek oder Palstek <input type="checkbox"/> mit Rohringstek oder mit Rundtörn und zwei halben Schlägen. zu 2 (Pfahl): <input type="checkbox"/> mit Kreuzschlägen und Kopfschlag <input type="checkbox"/> mit Webeleinstek oder Palstek <input checked="" type="checkbox"/> mit Rohringstek oder mit Rundtörn und zwei halben Schlägen. zu 3 (Ring): <input type="checkbox"/> mit Kreuzschlägen und Kopfschlag <input checked="" type="checkbox"/> mit Webeleinstek oder Palstek <input type="checkbox"/> mit Rohringstek oder mit Rundtörn und zwei halben Schlägen.	•••

## Jugendlizenz-Fragebogen Nr. 1

Nr.	Frage	Antwort	Pkt
24	Zeichne die Leinen ein, mit denen dieses Sportboot korrekt an der Pier festgemacht wird. Benenne diese vom Bug zum Heck.		••
25	Was ist zu tun, wenn jemand über Bord gefallen ist?	<input checked="" type="checkbox"/> Gegen Strom und Wind die Person anfahren, Propeller auskuppeln, Person bei stillliegendem Boot bergen. <input checked="" type="checkbox"/> Auskuppeln, Heck abdrehen, „Mann über Bord“ rufen, Rettungsring werfen, <input type="checkbox"/> Boot aus dem Gefahrenbereich bringen und auf Hilfe warten oder die Küstenwache informieren.	••
26	Wie heißen die Regeln, in denen du für dein Verhalten zum Schutz seltener Tiere und Pflanzen sowie zur Reinhaltung der Gewässer Hinweise findest?	<input type="checkbox"/> Umweltschutzregeln <input type="checkbox"/> Befahrensregeln für Naturschutzgebiete und Nationalparks <input checked="" type="checkbox"/> Die 10 goldenen Regeln	••
27	Warum solltest du in deinem Boot unbedingt Paddel mitführen?	<input checked="" type="checkbox"/> Damit im Notfall das Boot aus dem Fahrwasser gepaddelt werden kann. <input type="checkbox"/> Damit ich bei Langsamfahrt den Motor abstellen kann (Umweltschutz). <input type="checkbox"/> Damit ich mich vom Ufer abstoßen kann.	•
28	Wozu dient der Fender?	<input type="checkbox"/> Er dient als Rettungshilfe bei "Mann über Bord"- Manövern. <input type="checkbox"/> Er wird als Signalzeichen bei Ankerliegern gesetzt. <input checked="" type="checkbox"/> Er dient zum Schutz des Bootskörpers	••

## Jugendlizenz-Fragebogen Nr. 1

Nr.	Frage	Antwort	Pkt
29	Wie stellst du fest, dass dein Anker hält?	<input type="checkbox"/> Wenn die Ankerleine straff ist. <input checked="" type="checkbox"/> Durch peilen von Landmarken. <input checked="" type="checkbox"/> Durch Anfassen der Ankerkette oder Leine, wenn diese vibriert oder ruckt, hat der Anker nicht gefasst.	•
30	Weshalb ist die Drehrichtung deines Propellers für das Manövrieren unter Motor von Bedeutung?	<input checked="" type="checkbox"/> Da der "Radeffekt" das Heck zur einen oder anderen Seite versetzt, kann er beim Manövrieren berücksichtigt werden.  <input type="checkbox"/> Bei rechtsdrehendem Propeller wird beim vorwärts fahren das Heck nach Backbord versetzt.  <input type="checkbox"/> Bei linksdrehendem Propeller wird beim vorwärts fahren das Heck nach Backbord versetzt.	••
<b>Gesamtpunkte:</b>		<b>60</b>	<b>erreichte Punkte:</b>

bestanden: 52 bis 60 Punkte	<input type="checkbox"/>
mdl. Prüfung: 44 bis 51 Punkte	<input type="checkbox"/>
nicht bestanden: 0 bis 43 Punkte	<input type="checkbox"/>